

# 強者の戦略

《シリーズ》もしもセンターの問題が東大

仕様で出題されたら (2)

次の図1を見て、東アジアに関する問いに答えよ。

(2011年度 センター試験地理A 本試験 第3問 [東アジア地誌] 改題)

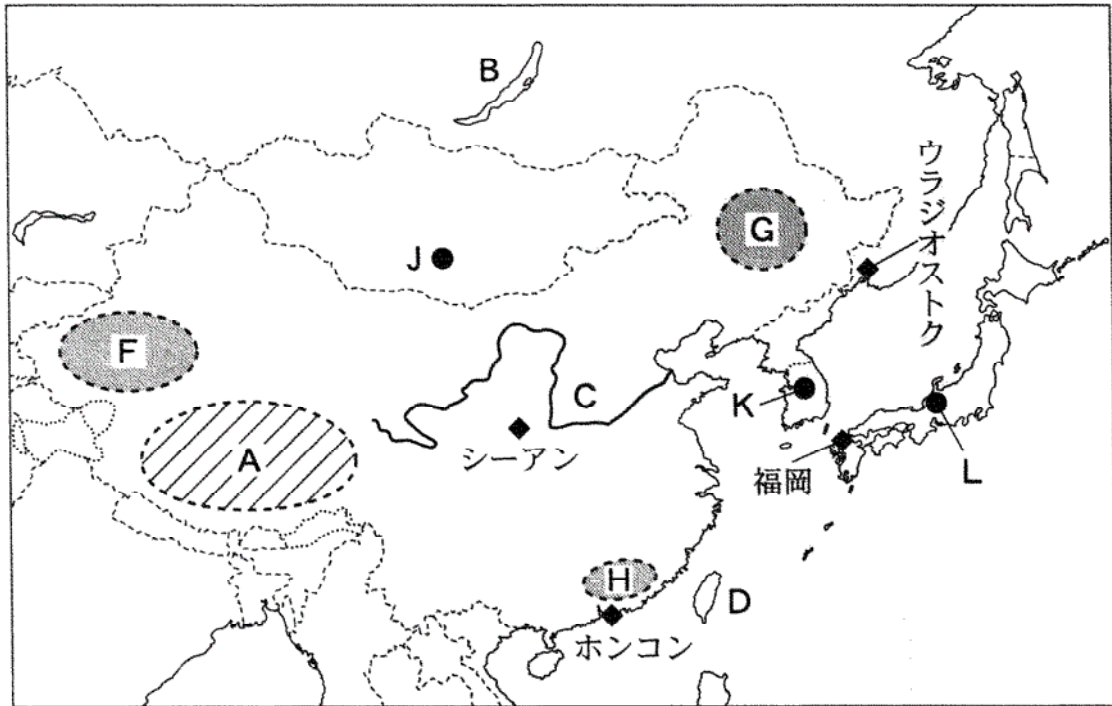


図 1

問1 図1中のB地域とH地域の工業の特徴を下記の語句を使用して3行(90字)以内で述べよ。尚、語句は何回でも使用してよいが、使用した箇所には下線を付すこと。

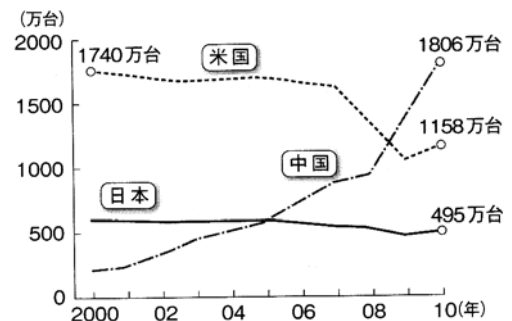
集約 資源

問2 図1中のF地域とG地域の農牧業の特徴を下記の語句を使用して3行(90字)以内で述べよ。尚、語句は何回でも使用してよいが、使用した箇所には下線を付すこと。

綿花 トウモロコシ

問3 右の図を見ると、中国の新車販売台数はこの2年間で急激に上昇して、中国の自動車市場は史上最大の市場になったことがうかがえる。このように中国での自動車販売市場が活性化し理由を、下記の語句を使用して3行(90字)以内で述べよ。尚、語句は何回でも使用してよいが、使用した箇所には下線を付すこと。

減税 内需 不況

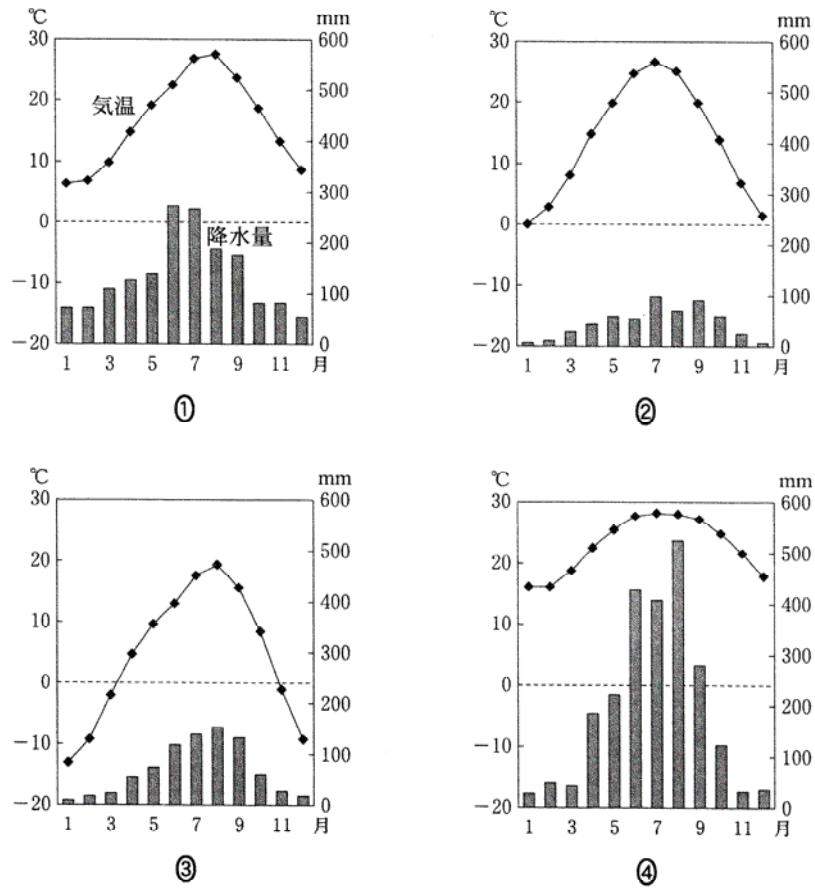


日米中の新車販売台数の推移 (米オートデータ社、中国汽车工業協会、日本自動車販売協会連合会、全国軽自動車協会連合会の資料より作成)

# 強者の戦略

問4 図1中の河川C流域で近年問題となっていることを2行(60字)以内で述べよ。

問5 次の図2中の①～④は、図1中のウラジオストク、シーアン(西安)、福岡、ホンコンのいずれかの地点における月平均気温と月降水量を示したものである。①～④に当てはまる都市名を、①-〇〇のように記せ。



『理科年表』により作成。

図 2

問6 韓国と台湾の工業化の共通点と相違点を4行(120字)以内で述べよ。